

**L-Eżamijiet Annwali tal-Iskejjel Sekondarji 2015**

**L-EWWEL SENA**

**IL-ĠEOGRAFIJA**

**IL-HIN: Siegha u nofs**

**L-Isem:** \_\_\_\_\_

**Il-Klassi:** \_\_\_\_\_

**Wieġeb il-mistoqsijiet kollha u ikteb ċar.**

**Din hija lista ta' kliem ġeografiku użat f'din il-karta tal-eżami u t-tifsira tiegħu bl-Ingliż.**

|                   |                |
|-------------------|----------------|
| pjanta            | plan           |
| werrej            | legend / key   |
| saff              | layer          |
| impermeabbli      | impermeable    |
| permeabbli        | permeable      |
| punti ko-ordinati | grid reference |
| kampeġġ           | campsite       |
| lembut            | cone           |
| ġiti              | tours          |
| funzjoni          | function       |
| fizzjal           | officer        |
| vapur tat-turisti | cruise-liner   |


**Tahriġ 1**

Disinn numru 1 juri l-kamra tas-sodda ta' John. Fl-ispazju l-vojt f'paġna 2, pingi l-pjanta ta' din il-kamra tas-sodda, inkluża l-pożizzjoni tat-tieqa. Pingi f'posthom il-pjanti tal-għamara li jidhru f'Disinn numru 1: is-sodda, l-iskrivanija, il-ħiter, is-siġġu, il-pultruna u l-komodina.

Faċċata tat-tieqa pingi l-bieb.



**Disinn 1**






Fil-pjanta tal-kamra tas-sodda, qrib is-sodda pingi l-pjanta ta' tapit żgħir rettangolari, kif ukoll pjanta ta' platt fuq il-mejda.

(10)

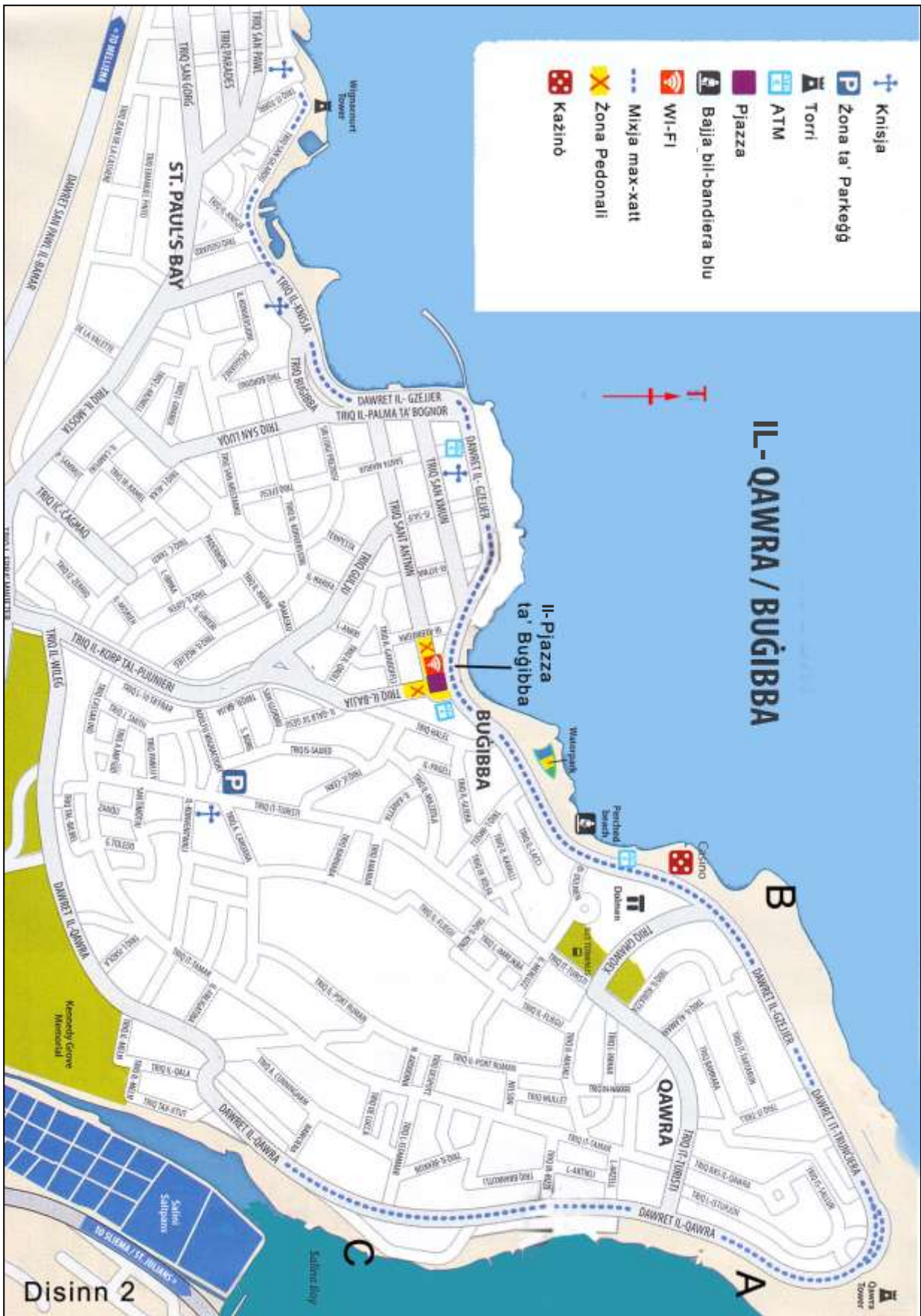
## Tahriġ 2

Hares sew lejn il-mappa ta' Buġibba f'Disinn numru 2 f'paġna 3.

Imbagħad uża l-verreġ biex timla l-vojt ta' dan il-paragrafu li ġej:

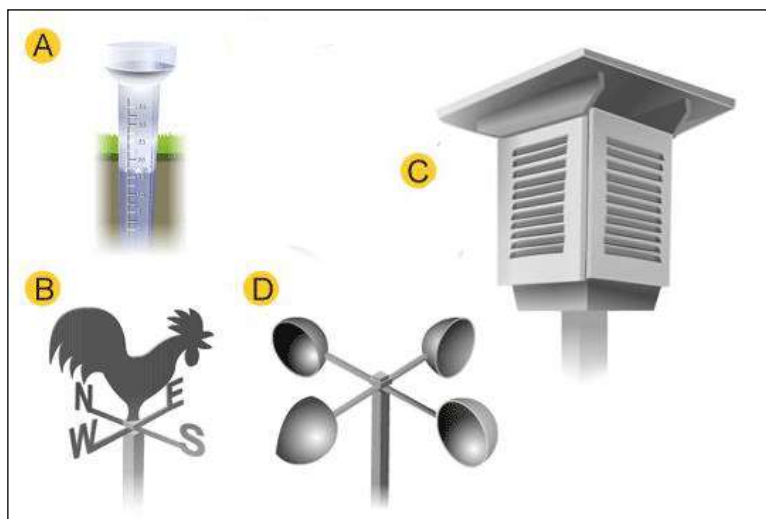
Maria ntgħazlet biex tieġu lil waħda mill-kantanti tal-*Junior Eurovision Song Contest* madwar Buġibba. Maria ltaqgħet ma' Brenda min-Norveġja fiż- \_\_\_\_\_ fejn hemm il-pjazza ta' Buġibba. Wara li tkellmu għal xi ħin, Maria u Brenda qatgħuha li jieħdu  \_\_\_\_\_ . Huma mxew lejn il-Punent f'Dawret il-Gzejjer, Triq il-\_\_\_\_\_ u San Ġilardu. Fit-tarf ta' Triq San Ġilardu huma raw \_\_\_\_\_ ta' Wignacourt. Dan il-post storiku kien magħluq għar-restawr. Imbagħad huma ħadu ġelat mill-ħanut tal-kafè li hemm qrib  \_\_\_\_\_ fi Triq San Pawl. Brenda kellha bżonn tiġbed xi flus mill-eqreb \_\_\_\_\_ . Minflok ma mxew minn quddiem il-baħar, huma għaddew minn Triq San Pawl, imbagħad minn parti minn \_\_\_\_\_ għal Triq San Luqa, Triq Aristarku, Triq Efesu u \_\_\_\_\_ . Qabel ma reġgħet lura lejn il-lukanda tagħha, Brenda tħajret tiġbed ritratt ta' nżul ix-xemx. Maria tatha parir biex tmur sal-post \_\_\_\_\_ (*Aghżel bejn postijiet A, B jew C*) u ddawwar il-kamera lejn \_\_\_\_\_ . Brenda żżiet ħajr lill-gwida żgħira tagħha u stednitha biex iżżur Oslo fil-btajjel tas-sajf.

(10)



### Tahriġ 3

Disinn numru 3 juri l-istrumenti ewlenin tat-temp.



### Disinn 3

a. Semmi l-istrumenti mmarkati **A, B** u **D**.

A \_\_\_\_\_

B \_\_\_\_\_

D \_\_\_\_\_

(3)

b. Semmi l-kaxxa mmarkata C. \_\_\_\_\_

(1)

c. L-ġhalliema tiegħek xtrat l-istrument A. Kieku int fejn tpoġġieh dan l-istrument fl-iskola?

---

---

d. X'juri l-istrument B, **fejn sejjer ir-rih** jew **minn fejn ġej ir-rih**?

---

---

e. Għaliex it-tagħrif li juri l-istrument B huwa importanti għat-tbassir tat-temp?

---

---

f. Meta r-rih ikun qawwi hafna, liema parti tal-istrument D iddur hafna?

---



---

g. B'liema lewn hija mizbugħa l-kaxxa C u għaliex?

---



---

h. Semmi **wiehed** mill-istrumenti li hemm f'kaxxa C.

---

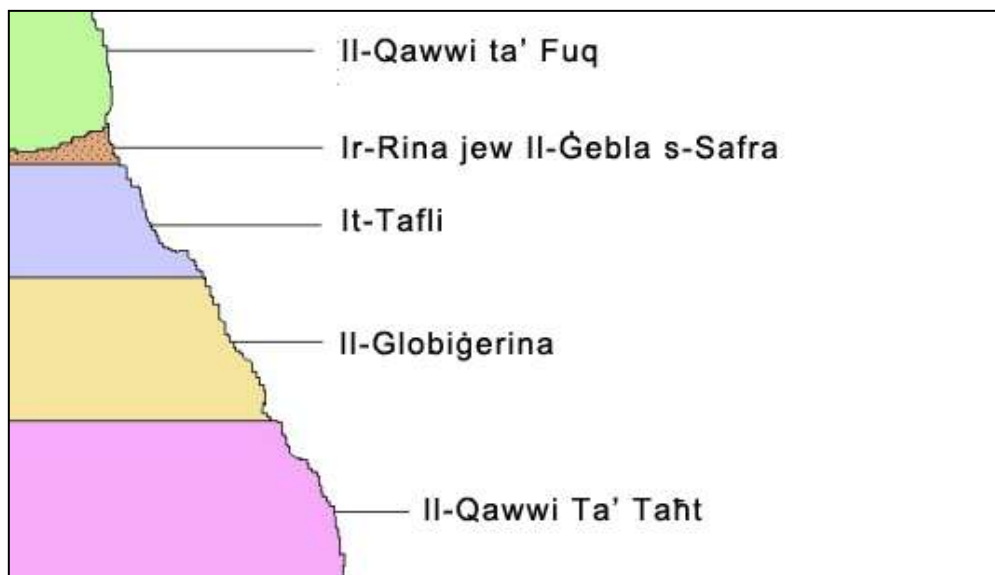


---

(6)

#### Tahriġ 4

Disinn numru 4 juri l-ħames saffi tal-blat ta' Malta. Hares sew lejn dan id-disinn meta timla d-dettalji vojta tat-tabella f'paġna 6.



**Disinn 4**

| Tagħrif dwar is-saffi ta' blat            | L-isem it-tajjeb tal-blat |
|---|---------------------------|
| L-eqdem blat f'Malta                      |                           |
| Użat għall-ġebbla tal-bini                |                           |
| L-uniku saff ta' blat impermeabbli        |                           |
| Blat iebes użat għaž-żrar                 |                           |
| Jitkisser malajr u jifforma ramel imdehbi |                           |

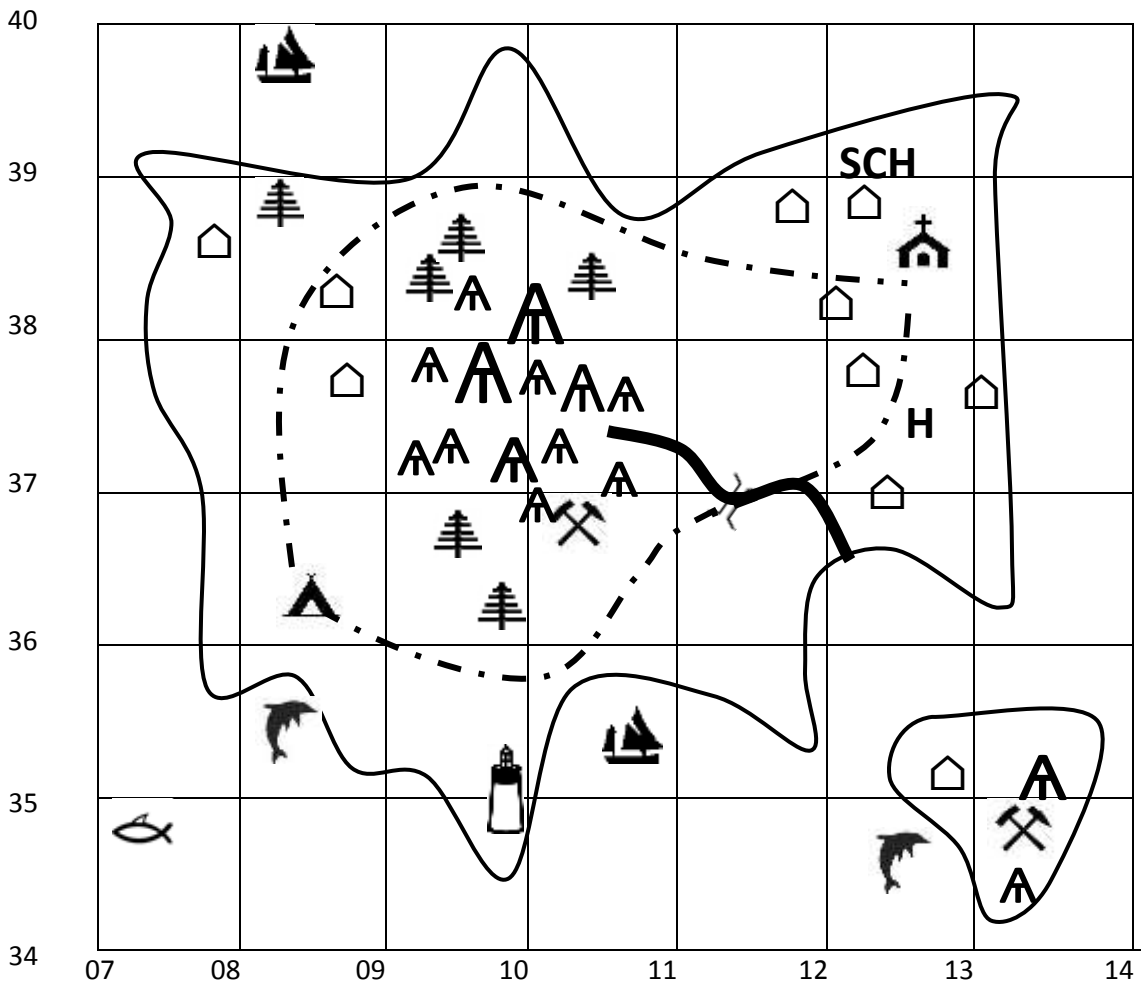
(10)

## Tahriġ 5













Ifli sew il-mappa f'Disinn numru 5 hawn isfel, kif ukoll il-werrej li juri s-sinjali tal-mappa użati f'pagna 7. Imla l-vojt bi twegibiet li ssib fil-mappa f'Disinn numru 5 hawn taht. L-ittri GR ifissru li trid tikteb l-erba' punti ko-ordinati.

Peter u Janet qattgħu tmiem il-ġimgħa li għaddiet f'kamp f'GR \_\_\_\_\_ . Meta ħarġu mit-tinda tagħhom setgħu jaraw \_\_\_\_\_ fil-Punent tagħhom u \_\_\_\_\_ fil-Lvant tagħhom. Is-Sibt huma żaru l-fanal f'GR \_\_\_\_\_ . Imbagħad imxew ħafna sa \_\_\_\_\_ f'GR1137. Minn hawn ħarsu 'l isfel biex jiehdu ritratti ta' \_\_\_\_\_. Il-Hadd Peter u Janet semgħu l-quddiesa fil-knisja f'GR \_\_\_\_\_. Imbagħad huma raw wirja tal-ajruplani li ttellgħet fi \_\_\_\_\_ GR1239. Waranofsinar huma mxew biex jaraw il-veduta tas-silġ fl-għoli ta' \_\_\_\_\_GR0937. Fil-gzira ewlenija hemm \_\_\_\_\_-il muntanja b'kollox.

(10)



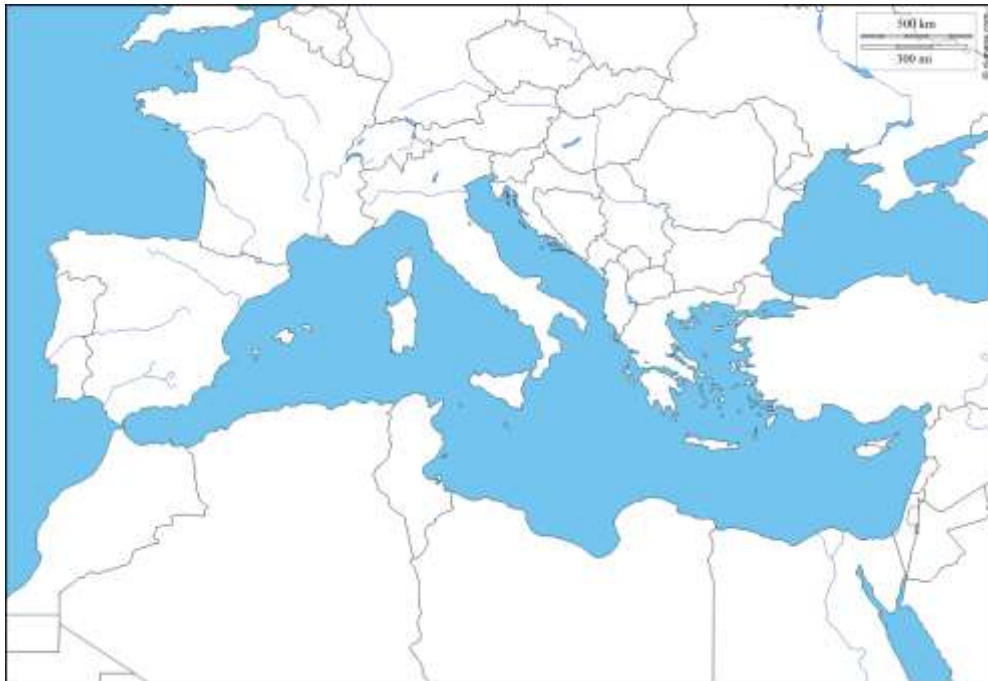
Disinn 5

| WERREJ  |         |   |       |   |               |   |                    |   |       |
|---|---------|---|-------|---|---------------|---|--------------------|---|-------|
|  | Kampeġġ |  | Dar   |  | Vapur         |  | Minjiera tal-faħam |  | Pont  |
|  | Knisja  | <b>SCH</b>  | Skola |  | Kelb il-baħar |  | Muntanja           |  | Triq  |
|  | Fanal   | <b>H</b>  | Sptar |  | Delfini       |  | Sigar              |  | Xmara |

**Disinn 5**

### Tahriġ 6

Ifli sew il-mappa tal-Mediterran f'Disinn numru 6, imbagħad aghmel it-tahriġ ta' taħt.



**Disinn 6**

- Bl-ittra **A** mmarka l-pożizzjoni ta' Malta.
- Semmi l-eqreb pajjiż fit-Tramuntana ta' Malta \_\_\_\_\_.  
Bl-ittra **B** immarka l-post ta' dan il-pajjiż fil-mappa.
- Semmi l-eqreb pajjiż fin-Nofsinhar ta' Malta. \_\_\_\_\_.  
Bl-ittra **C** immarka l-post ta' dan il-pajjiż fil-mappa.
- Semmi l-eqreb pajjiż fil-Punent ta' Malta. \_\_\_\_\_.  
Bl-ittra **D** immarka l-post ta' dan il-pajjiż fil-mappa.



e. Semmi l-eqreb pajjiż fil-Lvant ta' Malta. \_\_\_\_\_.

Bl-ittra **E** immarka l-post ta' dan il-pajjiż fil-mappa.

f. Aghżel wiehed mill-pajjiżi barranin li semmejt hawn fuq u li tixtieq iżżur.

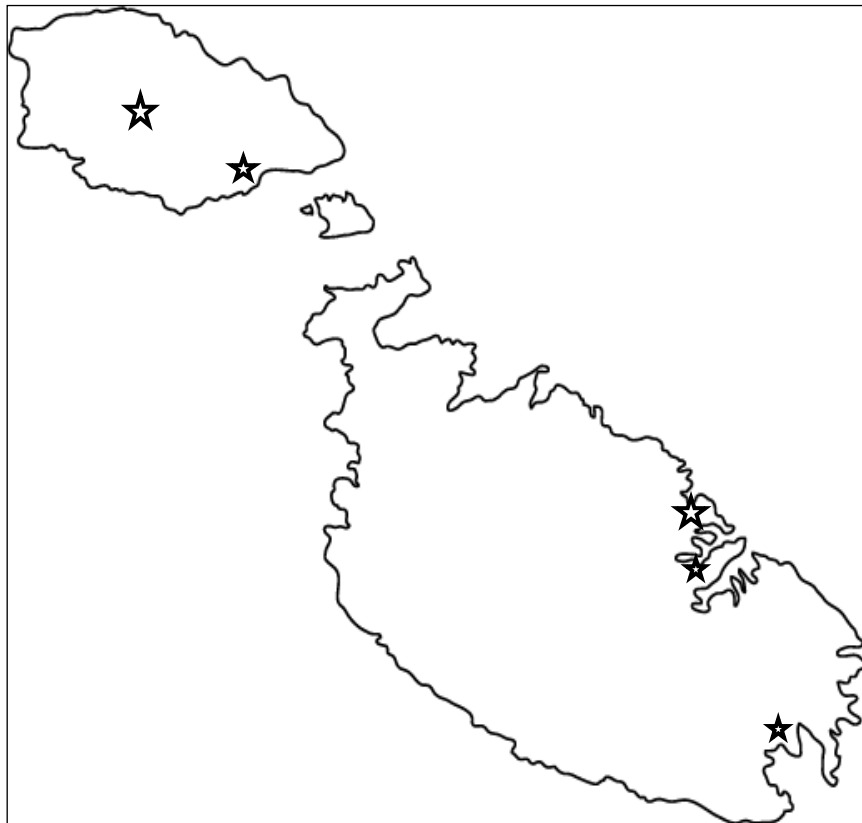
\_\_\_\_\_

Semmi l-belt kapitali ta' dan il-pajjiż. \_\_\_\_\_

(10)

### Tahriġ 7

Ifli sew il-mappa ta' Malta f'Disinn numru 7; imbagħad aghmel it-tahriġ ta' taht.



**Disinn 7**

a. Fil-mappa ikteb l-isem ta' **erbgha** mill-ħames postijiet immarkati bi stilla f'Disinn numru 7.

(8)

b. Semmi l-uniku post mill-ħamsa murijin li jinsab 'il bogħod mill-baħar.

\_\_\_\_\_

(1)

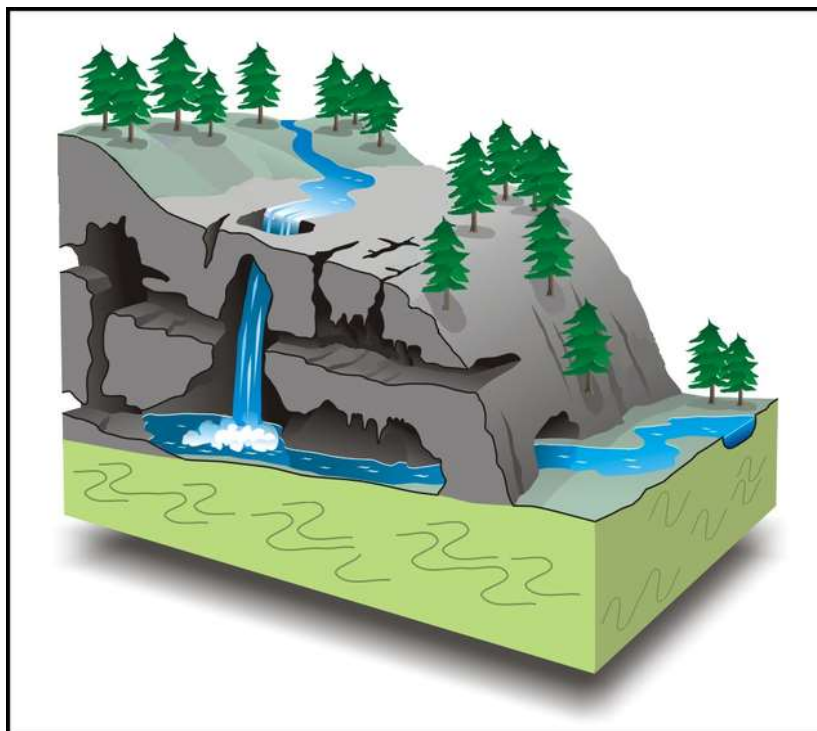
c. Semmi post **wiehed** qrib il-kosta mill-ħamsa murijin hawn fuq. \_\_\_\_\_

(1)



## Tahriġ 8

Studja d-Disinn numru 8 hawn taħt.



**Disinn 8**

a. Fid-Disinn numru 8 stess ikteb il-kliem **blat permeabbli** u **blat impermeabbli** fil-pożizzjoni t-tajba tagħhom. (2)

b. Spjega kif ġew iffurmata l-għerien ta' taħt l-art ta' Disinn numru 8.

---

---

---

---

(4)

c. Semmi għar ta' taħt l-art magħruf f'Malta jew barra minn Malta.

---

(1)

d. X'jissejġu l-oġġetti forma ta' lembut li jinżlu mis-saqaf tal-għar f'Disinn numru 8?

---

(1)

e. Spjega kif jiffurmaw dawn il-forom.

---

---

---

(2)

### Tahriġ 9a

Immaġina li inti l-fizzjal inkarigat biex tippjana ġiti għat-turisti li ġejjin Malta fuq dan il-vapur tat-turisti li jidher f'Disinn numru 9. Semmi **erba'** attrazzjonijiet ewlenin ta' Malta. Żomm f'moħħok li hemm it-tfal flimkien mal-ġenituri tagħhom u għalhekk il-ġiti għandhom jogħġbu lin-nies ta' kull età.



Disinn 9

---

---

---

---

---

---

(8)

### Tahriġ 9b

i. Semmi vantaġġ **wiehed** tat-turiżmu f'Malta.

---





ii. Semmi żvantaġġ **wiehed** tat-turiżmu f'Malta.

---

(4)

## Tahriġ 10

Imla t-tabella t'hawn taht billi tikteb **żewġ** funzjonijiet għal kull belt jew raħal.

| Isem             | Stampa  | Funzjonijiet ewlenin |
|------------------|---|----------------------|
| L-Imgarr         |    |                      |
|                  |   |                      |
|                  |   |                      |
| Marsaxlokk       |    |                      |
|                  |   |                      |
|                  |   |                      |
| Tas-Sliema       |  |                      |
|                  |   |                      |
|                  |   |                      |
| Il-Belt Valletta |  |                      |
|                  |   |                      |
|                  |   |                      |

(8)

## TMIEM IL-KARTA

**Geography – Maltese Version**

**Paġna 2 – Tahriġ 2 – It-tmien linja fis-silta**

Wara **mill-egreb** m'hemmx id-disinn tal-ATM  li taqbel mal-werrej ta' fuq il-mappa

**Paġna 1 - Tahriġ 1 - l-ewwel linja**

Wara **pingi l-pjanta** hemm nieqes il-kliem (**mhux fuq skala**)

**Paġna 6 - Tahriġ 5 - Il-hames linja fis-silta**

biex jieħdu ritratti **ta'** trid tigi **tax-**

**Paġna 6 - Tahriġ 5 – It-tmien linja fis-silta**

fl-gholi **ta'** trid tigi **tal-**