

L-Eżamijiet Annwali għall-Iskejjel Primarji 2014

Ir-Raba' Sena

L-ISTUDJI SOĊJALI

Il-Hin: Siegħa u kwart

L-Isem: _____

Il-Klassi: _____

1. Aqta' sing taht it-tajba.

1. Meta grupp ta' hbieb ma jaqblux fuq xi haġa, huma għandhom (jiggieldu bil-ponnijiet, jitkellmu, jirrabjaw, jitolqu 'l hemm).
2. Meta jkollna xi laqgħa għandna dejjem naslu (fil-hin, bi ngħas, tard).
3. Meta nkunu morda, għandna nkellmu (lis-sindku, lill-Prim Ministru, lit-tabib).
4. (Il-pulizija, It-tabib, Tal-indafa pubblika) għandu jzomm l-ordni waqt il-festa tar-raħal.
5. Meta naraw persuna titbissem, nindunaw li dik il-persuna tħossha (mdejqa, kuntenta, rrabjata).
6. Ahna l-bnedmin nikkomunikaw bejnietna (bis-sajjetti, bil-lingwi, bil-foresti).
7. Mezz ta' komunikazzjoni importanti bejn l-ibliet u l-irħula ta' kull pajjiż huma (t-toroq, l-foresti, l-muntanji).
8. Meta nsemmu *l-mass media*, inkunu qed ninkludu (t-toroq, l-ajruplani, l-gazzetti).
9. Bosta ismijiet ta' toroq tagħna jfakkruna f'xi persuni li (għamlulna d-deni, għamlu l-gid lill-komunità, qabzu l-età ta' mitt sena).
10. Bosta prodotti jgħaddu mill- (*Freeport*, *Ajruport*, *Belt Valletta*) fi triqthom lejn pajjiżi oħra barra minn Malta.



(marka 1 x 10 = 10 marki)

2. Ikteb IVA jew LE fil-kaxxi l-vojtja.

		IVA / LE
1	Il-gideb jista' jgibilna hafna glied.	
2	Kulhadd ghandu dritt għall-opinjoni tiegħu.	
3	Qatt ma jaqbillek iċċedi għax jekk iċċedi tidher ikrah ma' shabek.	
4	Tista' tinduna kif qed iħossu siehbeq mill-ħarsa fuq wiċċu.	
5	Biex immorru minn pajjiż għal ieħor nużaw l-iktar ir-roti.	
6	Nistgħu nesprimu l-opinjoni jiet tagħna permezz tal- <i>mass media</i> .	
7	Bit-telefown nista' nitkellem mal-kuġin li jgħix l-Awstralja.	
8	Permezz tal-Internet nista' nfittex informazzjoni dwar il-pajjiżi tal-Ġappun u tal-Korea.	

(marka 1 x 8 = 8 marki)

3. Wieġeb bil-ghajnuna tal-istampa.

1. Jekk ir-riħ jonfoħ mid-direzzjoni mmarkata bin-numru tnejn, mil-liema direzzjoni jkun ġej?

2. Min-numru sitta jonfoħ riħ

3. Min-numru wiehed jonfoħ riħ

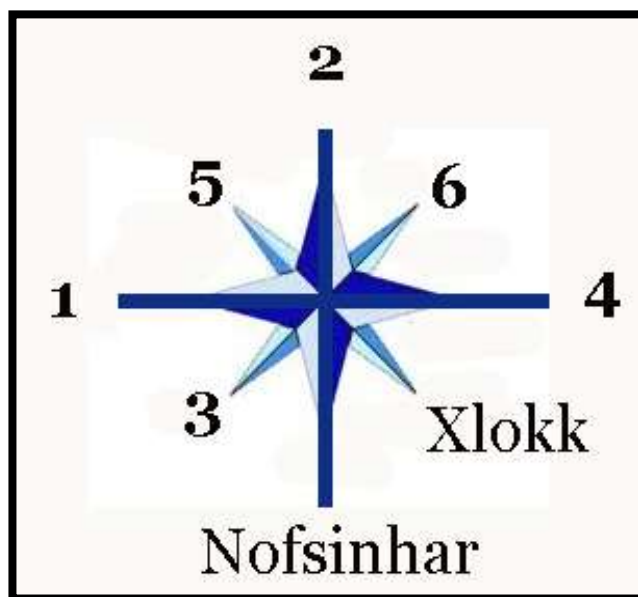
4. Liema direzzjoni jurina n-numru erbgħa? _____

5. Il-Majjistral huwa mmarkat bin-numru _____

6. Il-Lbiċ huwa mmarkat bin-numru _____

7. Riħ ġej mix-Xlokk, normalment ikun riħ frisk jew shun? _____

8. Min-numru ħamsa, normalment jonfoħ riħ shun jew frisk? _____



(marka 1 x 8 = 8 marki)

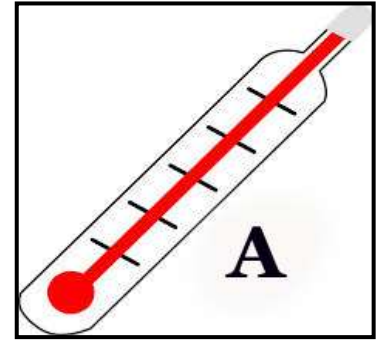
4. Wieġeb dwar it-Temp u l-Klima. Aqta' sing jew imla l-vojt.

1. (a) X'jissegjaħ l-istrument immarkat bl-ittra A?

_____ (1)

(b) Għal xiex nużawh?

_____ (2)



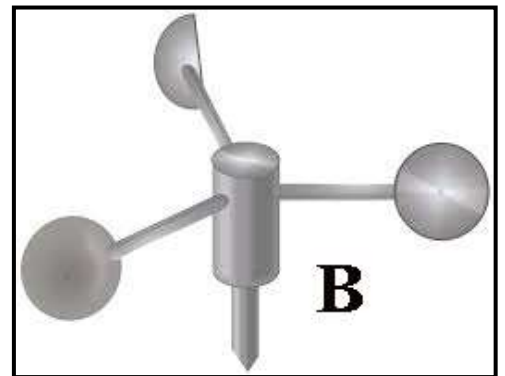
2. L-istrument immarkat bl-ittra A jista' jgħinna biex niddeċiedu (x'riħ hu, xi lbies se nilbsu, x'se nsajru). (1)

3. (a) X'jissegjaħ l-istrument immarkat bl-ittra B?

_____ (1)

(b) Għal xiex nużawh?

_____ (2)



4. L-istrument immarkat bl-ittra B jista' jgħin hafna lis-sajjed biex jara jekk għandux (jiżbogħ ix-xbieki blu, johroġ fuq il-baħar, jiekol hut jew ħaxix). (1)

5. Meta t-temperatura tinżel għal madwar 5 gradi Celsius, l-ajru jkun (imsaħħab, shun hafna, kiesaħ hafna). (1)

6. Bis-shana li kienet ilbieraħ, lanqas flahna niċċaqalqu. Fir-rapport tat-temp qrajna li t-temperatura telgħet (15-il, 150, 33) grad Celsius. (1)

(10 marki)

5. IL-FORESTA, IL-MERGĦA u D-DEŻERT. Imla l-vojt bil-kliem mogħti.

pjanti	tiksaħ	m'għandniex	shana	niexef
xadini	slavaġ	mergħa	xita	l-injam

1. Mill-foresti naqtgħu s-siġar. Minn dawn is-siġar nieħdu _____ .

2. Fil-foresta wkoll jikbru ħafna _____ ta' daqsijiet differenti.

3. Fil-foresti jgħixu minn kull tip ta' animali _____ bħal tigri, iljuni, _____ u kukkudrilli.



4. F'Malta _____ foresti.

5. Id-deżert huwa post _____ ħafna fejn ftit li xejn tagħmel _____ .

6. F'bosta deżerti matul il-jum tagħmel ħafna _____ , filwaqt li mal-lejl it-temperatura _____ ħafna.



7. Biċċa art kbira fejn jikber ħafna ħaxix u li tintuża l-aktar sabiex jirgħu l-animali tissejjaħ _____ .

(marka 1 x 10 = 10 marki)

6. Immarka b'ċirku l-hames affarijiet li ssib fi skola li għandha ambjent sabiħ.

Waħda minnhom hija lesta bħala eżempju.

fjuri

bandli

dastbins

pjanti

taħziz mal-ħitan

gnien

tajn fl-art

karti fl-art

madum imkisser

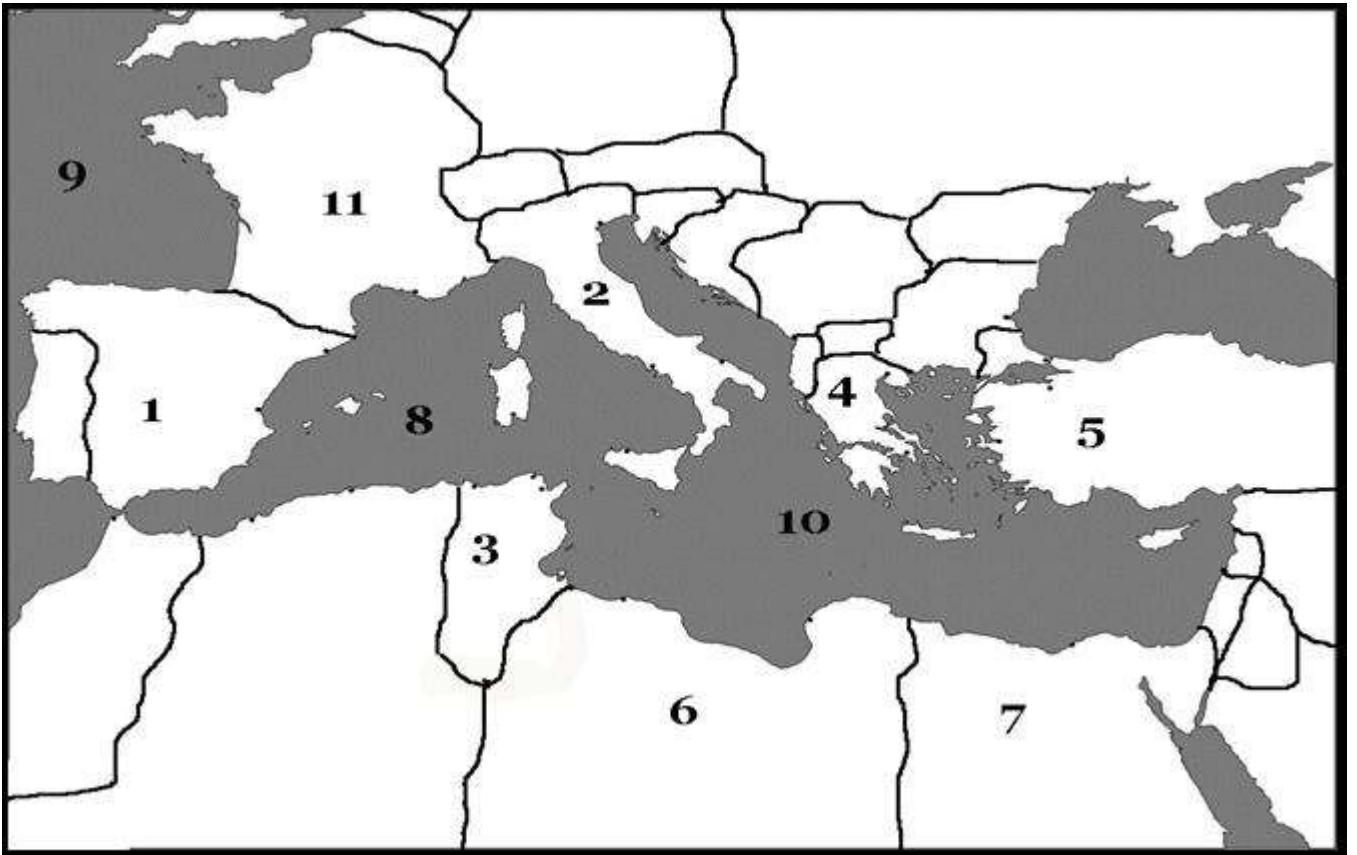
siġar

ħmieġ fil-ħamrija

ħitan mibruxa

(marka 1 x 5 = 5 marki)

7. **Aqra:** Fuq il-mappa li ġejja, biċċa min-numri huma miktuba fejn hemm il-baħar, oħrajn huma miktuba fejn insibu xi pajjiż. **Wieġeb bl-ghajjnuna tal-mappa.**



1. Ikteb żewġ numri mill-mappa li juruna fejn insibu l-Baħar Mediterran.

(a) _____ (b) _____ (2)

2. (a) Ikteb numru li jurina pajjiż. _____ (1)

(b) X'jismu l-pajjiż li għażilt? _____ (1)

(c) Ikteb il-belt kapitali ta' dan il-pajjiż. _____ (1)

3. (a) Ikteb numru ieħor li jurina pajjiż ieħor. _____ (1)

(b) X'jismu dan it-tieni pajjiż li għażilt? _____ (1)

(c) Ikteb il-belt kapitali ta' dan il-pajjiż. _____ (1)

(8 marki)

8. Ikteb **XERRI** hdejn is-sentenzi li jghoddu għal Dun Mikiel Xerri; ikteb **PSAILA** hdejn is-sentenzi li jghoddu għal Dun Karm Psaila.

Ara l-eżempju.



Dun Karm Psaila



Dun Mikiel Xerri

		XERRI / PSAILA
<i>Eż.</i>	<i>Il-monument tiegħu qiegħed fi Triq Sant'Anna l-Furjana.</i>	<i>Psaila</i>
1	Għall-bidu kien jikteb il-poeżiji tiegħu bit-Taljan.	
2	Il-monument tiegħu qiegħed ġol-Belt Valletta.	
3	Għex fi żmien meta Malta kienet immexxija mill-Kavallieri ta' San Ġwann.	
4	Ha sehem fi pjan biex jitkeċċew il-Franċiżi minn Malta.	
5	Wera kuraġġ meta beda jikteb poeżiji bil-lingwa Maltija.	
6	Ġie maqtul bl-azzarini tas-suldati Franċiżi fil-Belt.	
7	Kien eroj għax ta ħajtu għall-poplu Malti.	
8	Kiteb il-versi tal-Innu Malti.	
9	Qabel ġie maqtul għajjat "Viva Malta!"	
10	Kiteb bosta innijiet sbieħ reliġjużi bil-Malti bħall-Innu 'Nadurawk Ja Hobż tas-Sema'.	

(marka 1 x 10 = 10 marki)

9. **Il-Miġja tan-Normanni f'Malta.** Wieġeb il-mistoqsijiet billi timla l-vojt jew billi taqta' sing taħt it-twegiba t-tajba.

1. In-Normanni, li fis-sena 1091 attakkaw lil Malta, ġew minn (Spanja, Ċipru, Sqallija). (1)

2. F'Malta dak iż-żmien kien hawn ħafna (Inglizi, Għarab, Amerikani). (1)

3. Wara li rebħu lil Malta, in-Normanni baqgħu sejrini u rebħu wkoll (lil Franza, lil Għawdex, lill-Eġittu). (1)



4. Min kien il-Kap tan-Normanni?

_____ (2)

5. X'kien jisimha l-belt ewlenija

ta' Malta meta gew

in-Normanni?

_____ (2)

6. Għaliex in-Normanni riedu

jirbħu lil Malta?

_____ (2)

7. Semmi differenza importanti li kien hemm bejn il-biċċa l-kbira tan-nies li kien hawn Malta dak iż-żmien, u bejn in-Normanni.

_____ (2)

(11-il marka)

10. Festi, Drawwiet u Tradizzjonijiet Popolari.

Qabel billi tikteb l-isem tal-festa fil-kaxxi tal-lemin. *Ara l-eżempju.*

Aghżel minn: **IL-MILIED, L-GHID, SANTA MARIJA**

Eż.	<i>Jidhol fil-Port il-Kbir il-konvoj li salvana mill-ġuħ.</i>	<i>Santa Marija</i>
1	L-Istaġun kiesaħ tax-xitwa	
2	Noħorġu purċissjoni bil-vara ta' Kristu Rxox.	
3	il-Mosta, il-Gudja, Ħal Għaxaq, l-Imqabba, il-Qrendi, Ħad-Dingli, l-Imġarr Malta, ir-Rabat Għawdex, iż-Żebbuġ Għawdex	
4	Il-15 t' Awwissu	
5	Narmaw il-presepju.	
6	Sigra armata bid-dwal jixegħlu u jitfu.	
7	Tal-MUSEUM joħorġu puċissjoni bil-Bambin.	
8	Il-25 ta' Diċembru	
9	L-Istaġun tar-rebbiegħa	
10	Nagħmlu u nieklu l-figolli.	

(marka 1 x 10 = 10 marki)

11. Il-Ħin Liberu. Aqra s-sentenza, imbagħad wieġeb il-mistoqsija.

1. (a) **Aqra:** Fid-29 ta' Ġunju ta' kull sena niċċelebraw il-festa tal-Imnarja.

(b) **Wieġeb:** Semmi drawwa waħda marbuta mal-Imnarja li fl-antik u llum baqgħet l-istess, jigifieri ma nbidlitx.

_____ (2)

2. (a) **Aqra:** Fl-antik il-Maltin kienu jqumu kmieni, imma jorqdu kmieni.

(b) **Wieġeb:** Għaliex taħseb li llum il-Maltin jorqdu iktar tard minn qabel?

_____ (2)

3. (a) **Aqra:** Fl-antik bosta rġiel Maltin kienu jmorru jixorbu f'xi ħanut tax-xorb.

(b) **Wieġeb:** Semmi passatemp li għandhom il-Maltin illum u li ma kienx jeżisti fl-antik.

_____ (2)

4. (a) **Aqra:** Bosta bliet u rħula Matin, kull sena, jagħmlu festa sabiħa f'għieh xi qaddis jew qaddisa.

(b) **Wieġeb:** Semmi drawwa waħda marbuta mal-festa tar-raħal li fl-antik u llum baqgħet l-istess, jigifieri ma nbidlitx.

_____ (2)

5. (a) **Aqra:** Il-ħin meta ma nkunux l-iskola u lanqas ma nkunu qed nagħmlu xogħol tal-iskola, insejhulu ħin liberu.

(b) **Wieġeb:** **Semmi** mod wieħed kif xi passatemp li nagħmlu waqt il-ħin liberu tagħna biex nistrieħu jista' jkun ukoll ta' għid għalina.

_____ (2)

(10 marki)

TMIEM IL-KARTA